

КЛЮЧ
X класс

ЗАДАНИЯ

для проведения второго этапа республиканской олимпиады
по учебным предметам «История Беларуси», «Всемирная история»
(теоретический тур, выполнение тестовых заданий)

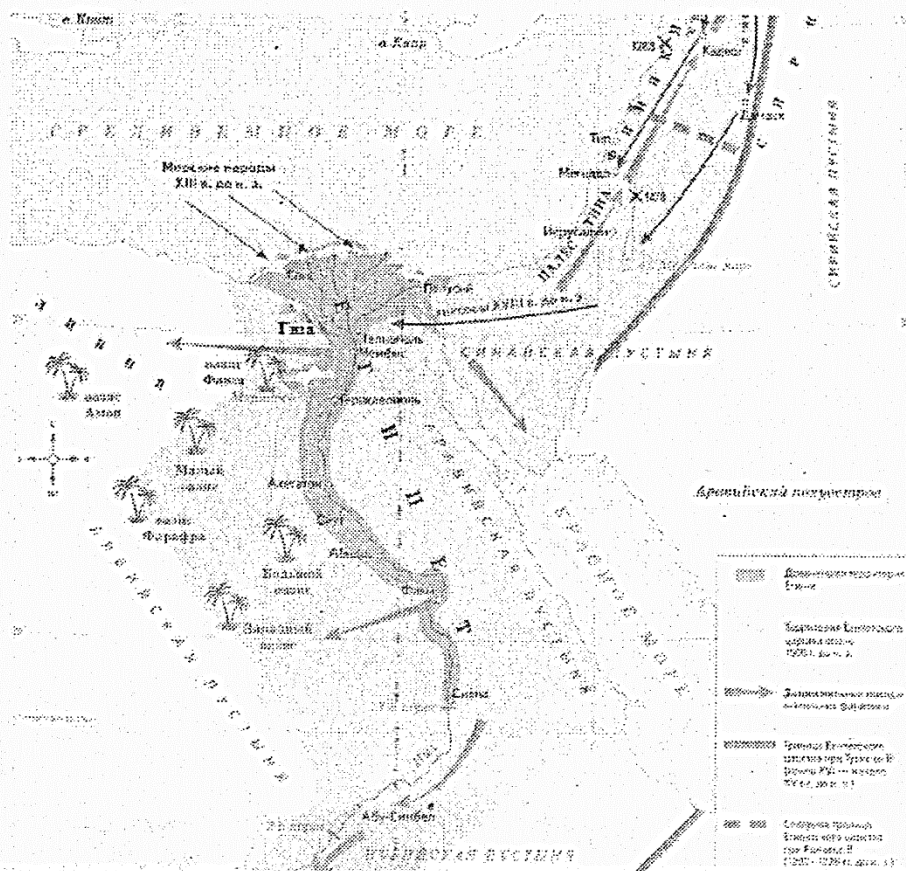
Общее максимальное количество баллов – 247

ТЕОРЕТИЧЕСКИЙ ТУР

Максимальное количество – 131 балл

Комментарии. Правильные ответы выделены полужирным шрифтом. Необходимо учитывать, что в теоретическом туре в некоторых случаях возможно дать только примерные образцы ответов на вопросы. В основном они построены в соответствии с информацией учебных пособий или информации, представленной непосредственно в карте, документе, таблице и т.д. Но знания заинтересованных и одарённых учащихся могут быть шире информации учебных пособий. Поэтому в тех случаях, когда ответ не совпадает с предложенным, но является верным, рекомендуется засчитывать его как правильный.

I. С использованием информации карты «Древний Египет» ответьте на предложенные вопросы и выполните задания.
За это задание вы можете получить 40 баллов.



Вопросы и задания	Ответ
1. Обозначьте примерные рамки периода истории Древнего Египта, показанного на карте.	XVIII – XIII вв. до н.э. (2 тысячелетие до н.э.) 2 балла

2. Напишите название кочевых племён, которые вторглись в Древний Египет в XVIII в. до н.э. Объясните причины военных успехов этих племён.	Гиксосы (2 балла). Кочевники сражались на боевых колесницах, запряженных лошадьми, а египтяне лошадей ещё не знали и использовали тактику пешего боя (4 балла). Итого: 6 баллов
3. Напишите название города, который стал столицей Древнего Египта после изгнания гиксосов.	Фивы 2 балла
4. Напишите имена наиболее известных фараонов периода истории Древнего Египта, представленного на карте.	Тутмос III, Эхнатон IV, Рамсес II. 6 баллов (по 2 балла за каждое правильное имя)
5. Во время правления какого фараона территория Древнего Египта достигла максимальных размеров. Какие земли вошли в состав Древнего Египта во время правления этого фараона?	Тутмос III (2 балла). Палестина, Финикия, Сирия, Нубия (по 2 балла за каждое название). Итого: 10 баллов
6. Какой город был столицей Древнего Египта во время правления фараона Эхнатона? Какое имя носил этот фараон изначально? Почему он изменил своё имя?	Ахетатон (2 балла). Аменхотеп IV (2 балла). Он объявил Атона единственным богом для всех египтян, а себя его единственным сыном. Имя Эхнатон означает – «Полезный для Атона» (4 балла). Итого – 8 баллов.
7. Кто из фараонов подписал первый известный в истории мирный договор с хеттами? В каком году произошло это событие?	Рамсес II (2 балла), 1258 г. до н.э. (2 балла) Итого: 4 балла
8. Напишите название места, где находятся самые известные памятники Древнего Египта – пирамида Хеопса и Большой Сфинкс.	Гиза 2 балла

II. Заполните таблицу «Международные конфликты XVIII в.».







За это задание вы можете получить 26 баллов.

Название войны	Хронологические рамки	Страны-участницы	Мирный договор и его итоги
Война за испанское наследство	1701 – 1714 гг. 2 балла	Испания, Франция, Голландия, Австрия	Утрехтский мир 1713 г. (2 балла) Ослабление Франции и утеря морского могущества Испании (2 балла) Итого: 4 балла
Северная война 1 балл	1700 – 1721 гг.	Россия, Дания, Швеция, Речь Посполитая 4 балла	Ништадтский мир 1721 г. (2 балла) Россия получила выход к Балтийскому морю (1 балл) Итого: 3 балла
Семилетняя война	1756 – 1763 гг. 2 балла	Австрия, Россия, Испания, Швеция, Великобритания, Саксония, Португалия, Пруссия	4 мирных договора: в Санкт-Петербурге, Гамбурге в 1762 г., Парижский, Губертсбургский в 1763 г. Потеря Францией своего первенства в Европе; Англия стала ведущей колониальной

			державой; усиление Пруссии. 3 балла
Русско-турецкая война 1 балл	1768 – 1774 гг.	Россия, Турция 2 балла	Кючук-Кайнарджийский мирный договор 1774 г. Крымское ханство получило независимость от Турции и впоследствии было присоединено к России. Россия получила выход к Черному морю. 4 балла

III. Определите и укажите историческое событие, которое показано на каждом из изображений. Укажите год(-ы) события, а также современное название государства, на территории которого происходило событие.

За это задание вы можете получить 18 баллов.

	
1. Сражение при Пелусии, 525 г. до н.э., Арабская Республика Египет (Египет) 3 балла	2. Битва на р. Немиге, 1067 г., Республика Беларусь (Беларусь) 3 балла
	
3. Первая опиумная война, 1840 – 1842 гг., Китайская Народная Республика (Китай) 3 балла	4. Провозглашение Конституции Речи Посполитой 3 мая 1791 г., Республика Польша (Польша) 3 балла
	

5. Оборона Брестской крепости, 1941 г., Республика Беларусь (Беларусь) 3 балла	6. Авария на Чернобыльской АЭС, 1986 г., Украина 3 балла
---	---


IV. Внимательно прочитайте документ и ответьте на предложенные вопросы. За это задание вы можете получить 20 баллов.

<...>

С 11 ч. утра по ознакомлении с высочайшим манифестом толпы евреев и рабочих, руководимые вожаками, ходили по городу. Собравшись у городской думы, избрали депутацию ... Явились к моему дому, требуя принять депутацию. 12 чел., принятые мною, основываясь на высочайшем манифесте, потребовали освобождения арестованных по моим обязательным постановлениям, освобождения всех политических арестантов и удаления из города казаков, ручаясь за тишину, спокойствие города. Первую просьбу во избежание столкновения исполнил, второе ходатайство обращено прокурору. Объяснил — [зависит] не от меня. Толпа направилась в тюрьму, не довольствуясь освобождением мной арестованных, требовала свободы всем политическим. Войска охраняли тюрьму, столкновений не было. Толпа, увеличившись в количестве 10 тыс., двинулась к Либава-Роменскому вокзалу, шла с криками «ура», выстрелами револьверов, красными флагами. Начальник управления Вильдеман телефонировал, прося указаний. Передал ему по телефону — не стрелять до последней крайности, прибегнуть к оружию при насилие. Толпа вела себя вызывающе, оскорбляла солдат, старалась вырвать ружья, начала стрелять из револьверов, громить вокзал. По третьему предупреждению даны залпы, толпа рассеялась. Есть убитые и раненые. Дознание производится, прошу указаний по применению высочайшего манифеста, полученного телеграммой. Докладываю, могут быть возобновления беспорядков, которые вынуждены подавлять силой ...

Вопросы и задания
1) Определите, о каком событии идёт речь в историческом документе. Когда и где оно произошло?
Ответ: Курловский расстрел рабочих в Минске 18 октября 1905 г. 4 балла
2) Кто является автором данного документа? Какую государственную должность занимал этот человек?
Ответ: П.Г. Курлов, губернатор Минска 4 балла
3) Что за «высочайший манифест» упоминается в документе? Кратко охарактеризуйте сущность упоминаемого манифеста.
Ответ: Манифест, изданный российским императором Николаем II 17 октября 1905 г. (2 балла). Провозглашал политические свободы — свободу слова, собраний, печати, объединений и парламент — Государственную думу с законодательными полномочиями и правом участия в выборах всех слоёв населения (4 балла). Итого: 6 баллов
4) Какое событие стало ответом относительно автора документа, написавшего доклад о произошедшем? Кто был инициатором и исполнителем этого события? Какими были результаты?
Ответ: Покушение эсеров на жизнь минского губернатора П.Г. Курлова в январе 1906 г. бывшим студентом эсером Иваном Пулиховым. В губернатора была брошена бомба, которая не взорвалась. И. Пулихов был казнён по приговору военного суда. 6 баллов

V. Рассмотрите изображение памятного места и ответьте на вопросы. За это задание вы можете получить 12 баллов



	Вопросы	Ответы
1	К какой категории можно отнести данный памятник (обведите букву правильного ответа):	а) памятник боевой славы; б) памятник партизанской славы; в) памятник жертвам нацизма. 1 балл
2	Кому посвящён памятник?	Детям партизанского командира М.Ф. Шмырёва (Батьки Мнная). 2 балла
3	Где данный памятник установлен?	Во дворе школы в посёлке Сураж Витебской области. 2 балла
4	С какими событиями связано установление памятника?	Германские оккупанты взяли в плен детей партизанского командира М.Ф. Шмырёва в качестве заложников и потребовали, чтобы их отец сдался в плен. Дети были расстреляны. 3 балла
5	Какие литературные произведения посвящены тому же событию, в честь которого установлен памятник?	Стихотворение «Баллада о четырёх заложниках» А. Кулешова, пьеса «Заложники» А. Кучера. 4 балла

VI. Рассмотрите фотодокумент и ответьте на вопросы.

За это задание вы можете получить 25 баллов





1) Какое событие зафиксировала фотография? На территории какого государства оно происходит? Укажите дату этого события.
<p>Ответ: Падение Берлинской стены, ГДР, 9 ноября 1989 г.</p> <p>3 балла</p>
2) Почему пограничные войска, которые наблюдают за происходящим, не вмешиваются?
<p>Ответ: 9 ноября 1989 года по телевидению были оглашены новые правила въезда и выезда из страны, согласно которым граждане ГДР могли получить визы для немедленного посещения Западного Берлина и ФРГ. Сотни тысяч восточных немцев устремились к границе, не дожидаясь вступления их в силу. Пограничники вынуждены были открыть границу.</p> <p>8 баллов</p>
3) Сколько лет просуществовала стена, которую так активно разрушают?
<p>Ответ: С 1961 г. 28 лет.</p> <p>2 балла</p>
4) В результате каких политических процессов стало возможным данное событие?
<p>Ответ: Под влиянием «перестройки» в СССР и ослабленном его влиянии началось разрушение «железный занавеса». В 1989 г. из ГДР начался массовый поток беженцев в Австрию и ФРГ.</p> <p>6 баллов</p>
5) Какие изменения на политической карте Европы произошли в результате данного события?
<p>Ответ: Вместо 3-х немецких государств – ГДР, ФРГ, Западный Берлин – было образовано одно – ФРГ. Прекратил существование Организация Варшавский Договор.</p> <p>6 баллов</p>

ПРАКТИЧЕСКИЙ ТУР

Максимальное количество – 116 баллов

VII. Определите историческую личность по портрету, укажите её фамилию (имя, прозвище) и страну, с которой была связана её деятельность.

За это задание вы можете получить 12 баллов.

		
1. Франческо Петрарка, Италия 2 балла	2. Бона Сфорца, ВКЛ 2 балла	3. Анна Тумаркина, Швейцария 2 балла
		
4. Владимир Короткевич, БССР (Беларусь, СССР) 2 балла	5. Мартин Лютер Кинг, США 2 балла	6. Дарья Домрачева, Республика Беларусь (Беларусь) 2 балла

VIII. Перед вами определения понятий, отражающих систему международных отношений в Новейшее время. Запишите к каждому определению соответствующее понятие.


За это задание вы можете получить 10 баллов.

1.	Аншлюс 2 балла	Включение Австрии в состав Германии, состоявшееся в марте 1938 г.
2.	«Линия Керзона» 2 балла	Условное название линии, разграничивающей белорусские и польские земли. Своё название получила от имени министра иностранных дел Великобритании, которым была предложена и рекомендована как линия перемирия на Парижской мирной конференции в декабре 1919 г. по итогам Первой мировой войны.
3.	Неоколониализм 2 балла	Система неравноправных (экономических и политических) отношений, навязываемая суверенным странам Азии, Африки и Латинской Америки и направленная на сохранение эксплуатации и зависимости этих стран.
4.	План Маршалла 2 балла	Программа помощи Европе после Второй мировой войны. Была предложена в 1947 г. американским государственным секретарем и вступила в действие в апреле 1949 г. В осуществлении плана участвовали 17 европейских стран, включая Западную Германию.
5.	«Бархатные революции» 2 балла	Процесс бескровного демонтажа социалистических режимов в восточноевропейских странах в конце 1980-х – начале 1990-х гг.

IX. Рассмотрите изображение ордена и прочитайте отрывок из его статута. Выберите три верных утверждения, относящиеся к данному ордену, и напишите его полное название.

За это задание вы можете получить 10 баллов.

Комментарий: за каждый правильно выбранный вариант ответа – 2 балла, за полное название ордена – 4 балла.



«Ни высокая порода, ни полученные пред неприятелем раны, не дают право быть пожалованным сим орденом: но дается оный тем, кои не только должность свою исправляли во всем по присяге, чести и долгу своему, но сверх того отличили еще себя особливим каким мужественным поступком, или подали мудрые, и для Нашей воинской службы полезные советы... Сей орден никогда не снимать: ибо заслугами оный приобретается».

(Из статута ордена 1769 года)

1) Орден имел 3 степени отличия.

2) На иллюстрации представлено изображение ордена 1-й степени.

3) Данный орден использовался при награждении солдат и офицеров за храбрость и мужество в годы Великой Отечественной войны.

4) Одним из полных кавалеров данного ордена за мужество и героизм стал уроженец Беларуси прапорщик П. И. Козятников.

5) Для представителей нехристианских конфессий был предусмотрен другой вариант данного ордена, на котором был изображён двуглавый орёл.

Х. Выберите правильный ответа из предложенных вариантов.

За это задание вы можете получить 20 баллов (по 1 баллу за каждый правильный ответ)

История Беларуси	Всемирная история
<p>1. На территории Беларуси возле деревни Лабенщина были найдены остатки:</p> <p>а) посуды с изображением утки;</p> <p>б) кремнедобывающей шахты</p> <p>в) печи-домницы;</p> <p>г) деревянного рала.</p> <p>2. Битва на реке Немиге упоминается в литературном произведении:</p> <p>а) «Слово о погибели Русской земли»;</p> <p>б) «Сказание о Мамаевом побоище»;</p> <p>в) «Слово о полку Игореве»;</p> <p>г) «Похвала Витовту».</p> <p>3. От монгольского нашествия в 1241 г. на территории Беларуси пострадал город:</p> <p>а) Гомель;</p> <p>б) Гродно;</p> <p>в) Берестье;</p> <p>г) Слуцк.</p> <p>4. В 1563 г. в Берестье был напечатан первый в Восточной Европе полный свод Библии в переводе на:</p> <p>а) белорусский язык;</p> <p>б) русский язык;</p> <p>в) польский язык;</p> <p>г) латинский язык.</p> <p>5. Согласно реформе государственной деревни, которая была проведена по инициативе П.Д. Киселёва:</p> <p>а) крестьяне получали наделы в собственность;</p> <p>б) переводились с оброка на барщину;</p> <p>в) получали личную свободу;</p> <p>г) переводились с барщины на оброк.</p> <p>6. Первыми из революционеров о существовании белорусской нации заявила:</p> <p>а) Белорусская социалистическая громада (БСГ);</p> <p>б) Российская социал-демократическая рабочая партия (РСДРП);</p>	<p>1. Самая первая в истории Египта пирамида была построена для фараона:</p> <p>а). Хеопса;</p> <p>б). Хефрена;</p> <p>в). Микерина;</p> <p>г). Джосера.</p> <p>2. Аграрная реформа 134 г. до н. э. в Древнем Риме была проведена по инициативе народного трибуна:</p> <p>а) Сервия Туллия;</p> <p>б) Аппия Клавдия;</p> <p>в) Тиберия Гракха;</p> <p>г) Гая Мария.</p> <p>3. Право ограниченной торговли в Японии в период её «закрытия» имели:</p> <p>а) португальцы;</p> <p>б) китайцы;</p> <p>в) голландцы</p> <p>г) корейцы.</p> <p>4. В эпоху Просвещения был сформулирован принцип:</p> <p>а) «разделения властей»;</p> <p>б) «чья страна – того и вера»;</p> <p>в) «цель оправдывает средства»;</p> <p>г) «спасение только верой».</p> <p>5. «Золотым веком» Османской империи принято называть правление султана:</p> <p>а) Мурада I;</p> <p>б) Сулеймана I;</p> <p>в) Селима I;</p> <p>г) Мехмеда II.</p> <p>6. «Тушинским вором» называли:</p> <p>а) Лжедмитрия I;</p> <p>б) Лжедмитрия II;</p> <p>в) Ивана Болотникова;</p> <p>г) Емельяна Пугачёва.</p> <p>7. Первое независимое государство в Латинской Америке – это:</p>

- в) группа «Гомон»;
г) газета «Наша ніва».

7. Около местечка Клястицы во время войны 1812 г.:

- а) генерал Кульнёв одержал победу над французским корпусом Удино;
б) корпус генерала Раевского задержал французский авангард;
в) генерал Остерман-Толстой задержал французский авангард Мюрата;
г) казаки атамана Платова разгромили дивизию Рожнецкого.

8. Самая крупная в Беларуси в начале XX в. Минская городская публичная библиотека носила имя:

- а) А. Мицкевича;
б) А.С. Пушкина;
в) Александра II;
г) К. фон Гуттен-Чапского.

9. Второй этап «рельсовой войны» во время Великой Отечественной войны:

- а) проводился, когда началась операция «Багратион»;
б) получил название «Концерт»;
в) проводился, когда Красная Армия начала контрнаступление под Курском;
г) начался с диверсии по подрыву вражеских эшелонов на станции Осиповичи.

10. В Книгу рекордов Гиннеса внесено художественное произведение:

- а) картина «Чернобыльская мадонна» художника М. Савицкого;
б) картина «Минск. 3 июля 1944 г.» художника В. Волкова;
в) «Гобелен столетия» художника А. Кищенко;
г) кинофильм «Иди и смотри» режиссёра Э. Климова

- а) Мексика;
б) Венесуэла;
в) Колумбия;
г) Гаити.

8. Рейнский гарантийный пакт, обеспечивающий неприкосновенность границ Франции с Германией, был подписан на:

- а) Генуэзской конференции 1922 г.;
б) Парижской конференции 1919 г.;
в) Вашингтонской конференции 1921 – 1922 гг.
г) Локарнской конференции 1925 г.

9. Приказ № 227, известный под названием «Ни шагу назад!» был издан накануне:

- а) в ноябре 1941 г. накануне контрнаступления под Москвой;
б) в июле 1942 г. в ходе Сталинградской битвы;
в) в июне 1943 г. накануне Курской битвы;
г) в июне 1944 г. в ходе операции «Багратион».

10. Одним из важнейших событий внешнеполитической жизни Великобритании в период пребывания у власти Консервативной партии с 2010 г. стало:

- а) поддержка войны США против Ирака;
б) конфликт с Аргентиной из-за Фоклендских островов;
в) соглашение с Ирландией об отказе от претензии на Ольстер;
г) решение о выходе Великобритании из Европейского Союза.

XI. Правильно соотнесите элементы двух множеств (например: А-1, Б-2....).

За это задание вы можете получить 10 баллов.





Комментарий: Принимается только полностью правильный ответ.

1. Название страны и династии, которая в ней управляла (2 балла)

А	Польша	1	Трастамара
Б	Византия	2	Ангелы
В	Испания	3	Капетинги

Г	Франция	4	Ягеллоны
А – 4	Б – 2	В – 1	Г – 3





2. Памятник исторической личности и населённый пункт в Беларуси, в котором он находится (2 балла).

	
А – 3	Б – 2
	
В – 4	Г – 1
1. Могилёв; 2. Коссово; 3. Витебск; 4. Новогрудок.	

3. Настоящие фамилии белорусских писателей и поэтов и их псевдонимы (2 балла).

А	К. Мицкевич	1	Янка Купала
Б	К. Кастровицкий	2	Янка Лучина
В	И. Луцевич	3	Карусь Каганец
Г	И. Неслуховский	4	Якуб Колас
А – 4	Б – 3	В – 1	Г – 2

4. Художественное произведение и его автора (2 балла)

	
А – 3	Б – 1
	
В – 2	Г – 4
1. А. Дюрер; 2. М. Шагал; 3. Я. Дроздович; 4. С. Дали	

5. События второй половины XX в. и их даты (2 балла).

А	Карибский кризис	1	1990 г.
Б	Создание Организации Варшавского Договора	2	1991 г.
В	Распад СССР	3	1962 г.
Г	Объединение Германии	4	1955 г.
А – 3	Б – 4	В – 2	Г – 1

XII. Расставьте события в правильной последовательности (например, 1 – В, 2 – Г...).





За это задание вы можете получить 20 баллов.

Комментарий: Принимается только полностью правильный ответ.



1. События древнегреческой истории (4 балла).


А	Пелопонесская война	В	Греко-персидские войны
Б	Реформы Солона в Афинах	Г	Подчинение Афин Македонией
1 – Б	2 – В	3 – А	4 – Г

2. Правителей Османской империи (4 балла).

А	 <p data-bbox="256 651 724 689">Сулейман I Великолепный</p>	В	 <p data-bbox="1050 645 1313 689">Абдул-Хамид II</p>
Б	 <p data-bbox="403 1220 579 1256">Мехмед II</p>	Г	 <p data-bbox="1106 1211 1265 1249">Селим III</p>
1 – Б	2 – А	3 – Г	4 – В

3. Архитектурные стили, характерные для белорусских земель (4 балла).

 <p data-bbox="355 1776 568 1814">Классицизм</p>	 <p data-bbox="1026 1787 1286 1825">Псевдорусский</p>
А	Б



Готика



Барокко

В		Г	
1 – В	2 – Г	3 – А	4 – Б

4. События истории Беларуси в годы Великой Отечественной войны

А	Начало операции «Багратион»	В	Уничтожение германскими оккупантами деревни Хатынь вместе с её жителями
Б	Использование реактивных миномётов «катюши» под Оршей	Г	Освобождение от германских оккупантов Гомеля
1 – Б	2 – В	3 – Г	4 – А

5. События всемирной истории межвоенного периода XX в. (4 балла)

А	выход Германии из Лиги Наций	В	ввод германских войск в Рейнскую демилитаризованную зону
Б	начало мирового экономического кризиса	Г	заключение Мюнхенского соглашения
1 – Б	2 – А	3 – В	4 – Г

XIII. Выберите правильный вариант ответа.

За это задание вы можете получить 8 баллов.

Комментарий: по 2 балла за каждое правильно выполненное задание

1. Верно ли, что:

- В конце неолита на белорусских землях появилась керамика.
- Основным видом промысла на белорусских землях в неолите стала рыбная ловля.

- верно 1;
- верно 2;
- верно 1 и 2;
- неверно 1 и 2.

2. Верно ли, что:

- В соответствии с реформами Солона в Афинах было введено долговое рабство.
- При Перикле в Афинах полностью была установлена геронтократия.

- верно 1;
- верно 2;
- верно 1 и 2;
- неверно 1 и 2.

3. Верно ли, что:

- Сразу после вхождения белорусских земель в состав Российской империи на них сохранялось действие Статута Великого Княжества Литовского.

2. После вхождения белорусских земель в состав Российской империи в белорусских городах сохранялось магдебургское право.

- а) верно 1;
- б) верно 2;
- в) верно 1 и 2;
- г) неверно 1 и 2.

4. Верно ли, что:

1. Коллективизация сельского хозяйства в БССР была завершена после окончания Великой Отечественной войны.

2. После окончания Великой Отечественной войны основным направлением в индустриальном развитии БССР стал курс на развитие лёгкой промышленности.

- а) верно 1;
- б) верно 2;
- в) верно 1 и 2;
- г) неверно 1 и 2.

XIV. Определите, какое из событий произошло раньше, и отметьте его знаком ☒ в соответствующем месте.

За это задание вы можете получить 8 баллов.

Комментарий: за каждый верный ответ – 2 балла

1.	<input type="checkbox"/>	Битва на реке Немиге	или	<input checked="" type="checkbox"/>	Битва при Гастингсе
2.	<input type="checkbox"/>	Начало работы парламента в Англии	или	<input checked="" type="checkbox"/>	Коронация Миндовга
3.	<input checked="" type="checkbox"/>	Восстание декабристов в России	или	<input type="checkbox"/>	Создание единого Итальянского королевства
4.	<input checked="" type="checkbox"/>	Создание Европейского Союза	или	<input type="checkbox"/>	Принятие Конституции Республики Беларусь

XV. Узнайте историческую личность по описанию и запишите фамилию.



За это задание вы можете получить 12 баллов

1	Итальянский полководец, революционер и политический деятель. Сыграл выдающуюся роль в борьбе итальянского народа против австрийского гнета и за объединение страны. Именем этого героя в 1943—1945 гг. были названы партизанские отряды, воевавшие с немецко-фашистскими захватчиками.	Гарибальди 3 балла
2	Народный комиссар земледелия в БССР. Проводил в 1920-х годах в Белоруссии аграрную политику под лозунгом «Беларусь – красная Дания», которая заключалась в свободе выбора крестьянами форм землепользования и размещении крестьянских хозяйств на хуторах.	Прищепов 3 балла
3	Организовал диверсионную деятельность на железнодорожном узле в Орше. Под его руководством в депо действовала подпольная организация, члены которой изготавливали мины, внешне похожие на уголь и подкладывали их паровозные топки.	Заслонов 3 балла
4	Академик АН СССР в области физики, один из создателей водородной бомбы. Стал лауреатом Нобелевской премии мира за 1975 г. как общественный деятель и правозащитник.	Сахаров 3 балла

	В январе 1980 г. после заявлений, осуждающих ввод советских войск в Афганистан, был лишён всех советских наград и выслан из Москвы. Стал Народным депутатом СССР и автором проекта конституции Союза Советских Республик Европы и Азии в годы перестройки.	
--	--	--

XVI. Напротив каждого символа напишите полное название международной организации, которой он принадлежит.

За это задание вы можете получить 6 баллов.

1.		Международное агентство по атомной энергии (МАГАТЭ) 3 балла
2.		Евразийский экономический союз (ЕАЭС) 3 балла